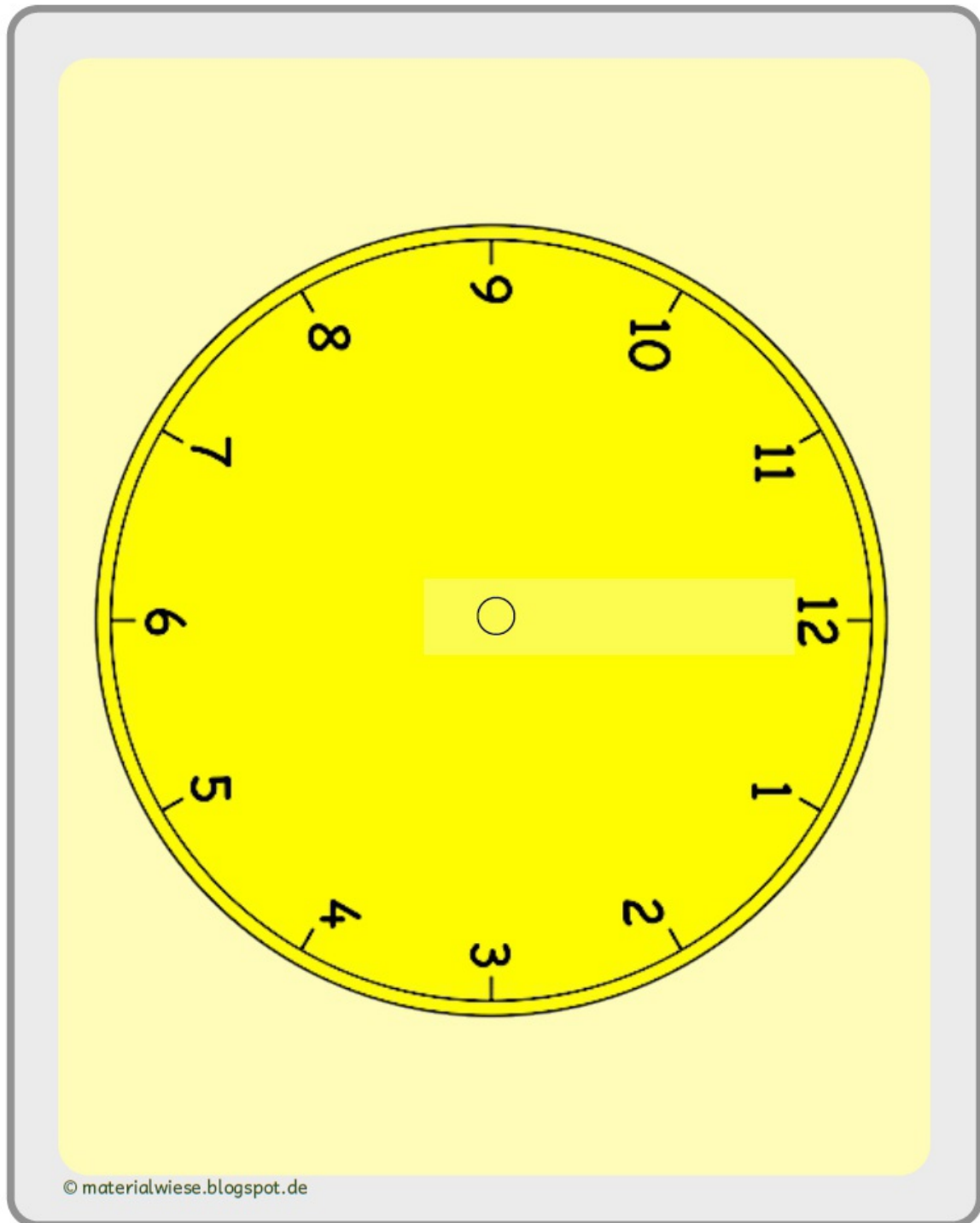


Bitte besprechen Sie mit Ihren Kindern die Uhr und die Zeiger.
Ziel ist es, dass die Kinder volle Stunden ablesen können.

(Als Anregung/ Erläuterungshilfe: Erklären Sie, dass der Tag 24 Stunden hat, eine Stunde 60 Minuten, was bedeutet, dass der große Zeiger einmal rum wandert und eine Minute 60 Sekunden hat. Stellen Sie unterschiedliche volle Stunden ein und besprechen wieviel Uhr zu sehen sind.)

Bastel dir eine Uhr und versuche verschiedene volle Stunden einzustellen und diese dann zu benennen!





1 Uhr



2 Uhr



3 Uhr



4 Uhr



5 Uhr




6 Uhr



7 Uhr



8 Uhr




9 Uhr



10 Uhr

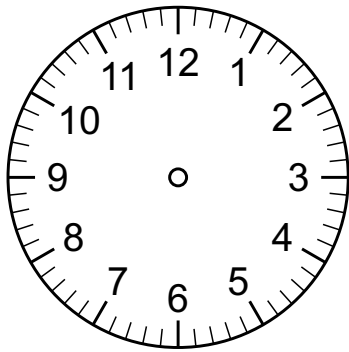


11 Uhr

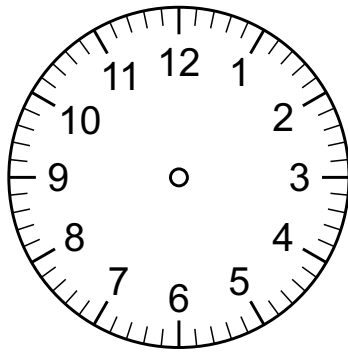


12 Uhr

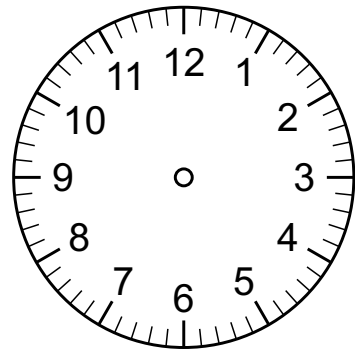
Zeichne die Zeiger richtig ein.



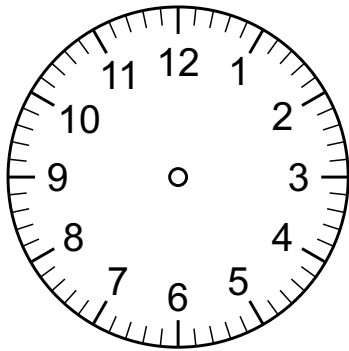
5:00 Uhr



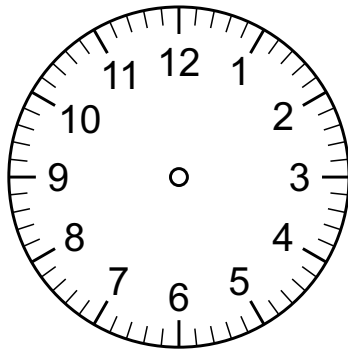
4:00 Uhr



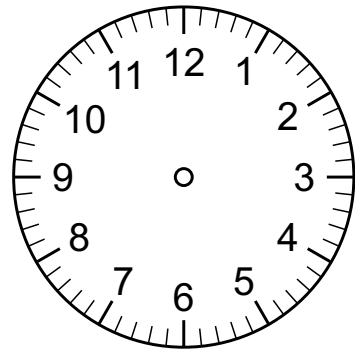
11:00 Uhr



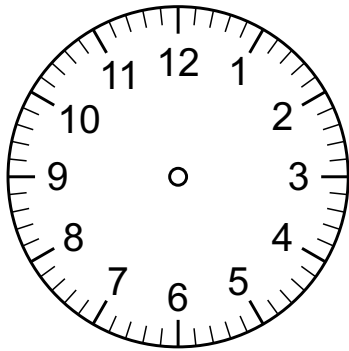
3:00 Uhr



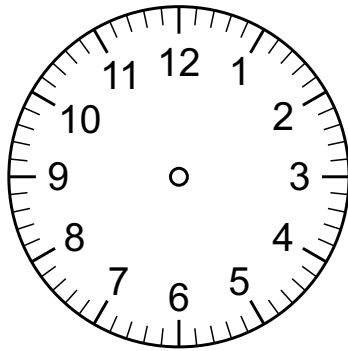
8:00 Uhr



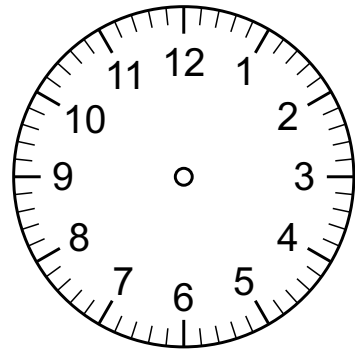
6:00 Uhr



9:00 Uhr



1:00 Uhr



0:00 Uhr

Schreibe die Wörter mit Artikel (der, die, das)



--	--	--	--	--	--	--




Au/au

--	--	--	--	--	--	--



Wenn du alle Wörter geschrieben hast, versuche zu jedem Wort einen Satz zu schreiben. Auf der nächsten Seite ist Platz dafür.



Mein Karneval 2020!



















Male ein Bild und schreibe dazu, wie dein Karneval war.

Warst du verkleidet? Als was?

Hast du einen Karnevalszug gesehen?

Was hat dir am besten gefallen?



Bitte bearbeiten Sie mit Ihrem Kind die fehlenden Stationen aus dem aktuellen Wochenplan zum Thema 'Das Jahr und die Zeit'.

gestern - heute - morgen

6

Morgen ist heute schon gestern

Heute ist Mittwoch.
Dann war gestern Dienstag.
Vorgestern war Montag.
Morgen ist dann Donnerstag.
und übermorgen Freitag.

1. Lies den Text.
2. Schreibe selbst.

Heute ist _____.
Dann war gestern _____
Vorgestern war _____
Morgen ist dann _____
und übermorgen _____











MONTAGDIENSTAGMITTWOCHDONNERSTAGFREITAGSAMSTAGSONNTAG

Bitte bearbeiten Sie mit Ihrem Kind die fehlenden Stationen aus dem aktuellen Wochenplan zum Thema 'Das Jahr und die Zeit'.

Mein Tag

7

Manche Dinge machst du immer zu bestimmten Tageszeiten.

am Morgen		
am Vormittag		
am Mittag		
am Nachmittag		
am Abend		
in der Nacht		

Aufgabe

Was machst du zu diesen Tageszeiten?
 Verbinde die Bilder mit der richtigen Tageszeit.
 Vorsicht: Manche Bilder passen zu mehreren Tageszeiten!

Wochenplan - Das Jahr und die Zeit

Bitte bearbeiten Sie mit Ihrem Kind die fehlenden Stationen aus dem aktuellen Wochenplan zum Thema 'Das Jahr und die Zeit'.

Am Tag und in der Nacht

8

Das Leben ist am Tag ganz anders als in der Nacht.

„Träum was Schönes!“

Die Laternen sind an.

Wir kaufen ein.

Papa arbeitet.

Wir essen und trinken.

Es ist hell.

Wir essen und trinken.

Ich schlafe.

Es ist dunkel.

„Guten Morgen!“

Die Sonne scheint.

Ich gehe zur Schule.

Am Himmel leuchten der Mond und die Sterne.

Es ist still.

Der Supermarkt ist geschlossen.

Aufgabe

Welche Sätze passen zum Tag und welche zur Nacht?

➡ Male eine **Sonne** zu den Sätzen, die zum **Tag** passen.

➡ Male einen **Mond** zu den Sätzen, die zu der **Nacht** passen.

Wochenplan - Das Jahr und die Zeit


Bitte bearbeiten Sie mit Ihrem Kind die fehlenden Stationen aus dem aktuellen Wochenplan zum Thema 'Das Jahr und die Zeit'.

Die vollen Stunden


9

Der kleine Zeiger zeigt die Stunden an. Wenn er genau auf der Eins steht, ist es zum Beispiel ein Uhr. Bei einer vollen Stunde steht der große Zeiger immer auf der Zwölf.

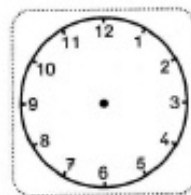
1.



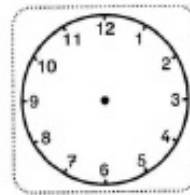
3 Uhr



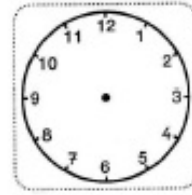
2.



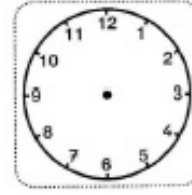
1 Uhr



8 Uhr



4 Uhr



2 Uhr

Aufgaben

Wie spät ist es? Schreibe es bei Aufgabe 1 auf die Linien.

Zeichne bei Aufgabe 2 die Zeiger in die Uhren.

Ein Tag hat 24 Stunden. Überlege mit einem Partner gemeinsam:

Wie viele Runden dreht der kleine Zeiger an einem Tag auf dem Ziffernblatt?



Als Hilfe für die Stationen aus dem Wochenplan und zum wiederholen/ lernen der Monate und wie viel Tage diese haben.

Jahreskalender 2020

Januar	Februar	März	April	Mai	Juni	Juli	August	September	Oktober	November	Dezember
1 Mi	1 Mi	1 Mi	1 Mi	1 Fr	1 Mo	1 Mi	1 Mi	1 Di	1 Do	1 Do	1 Di
2 Do	2 Do	2 Mo	2 Do	2 Do	2 Di	2 Do	2 Di	2 Mo	2 Fr	2 Mo	2 Mi
3 Fr	3 Sa	3 Di	3 Fr	3 Mi	3 Mi	3 Fr	3 Mo	3 Do	3 Sa	3 Do	3 Do
4 Sa	4 So	4 Mi	4 So	4 Do	4 Do	4 Sa	4 Di	4 Fr	4 So	4 Fr	4 Fr
5 So	5 Mo	5 Do	5 Mo	5 Fr	5 Fr	5 So	5 Mo	5 Mo	5 Mo	5 Do	5 So
6 Mo	6 Do	6 Fr	6 Mo	6 Sa	6 Sa	6 Do	6 Do	6 Di	6 Do	6 Sa	6 Sa
7 Di	7 Fr	7 So	7 Di	7 So	7 Mo	7 Di	7 Fr	7 Mo	7 Mi	7 So	7 Mo
8 Mi	8 So	8 Mo	8 Mi	8 Di	8 Di	8 Do	8 Do	8 Do	8 Do	8 So	8 Di
9 Do	9 Mo	9 Di	9 Do	9 Do	9 Do	9 Mo	9 Mo	9 Mo	9 Fr	9 Mo	9 Mi
10 Fr	10 Do	10 Mi	10 Fr	10 Fr	10 Fr	10 Do	10 Mo	10 Do	10 Do	10 Do	10 Do
11 Sa	11 So	11 Do	11 Sa	11 Sa	11 Sa	11 Di	11 Do	11 Fr	11 Mi	11 Do	11 Fr
12 So	12 Mo	12 Mo	12 So	12 So	12 So	12 Mi	12 Do	12 Do	12 Do	12 Do	12 Do
13 Mo	13 Do	13 Di	13 Mo	13 Mi	13 Mo	13 Do	13 Do	13 Do	13 Fr	13 Do	13 Do
14 Di	14 Fr	14 Do	14 Do	14 Do	14 Do	14 Di	14 Fr	14 Do	14 Mo	14 Do	14 Mo
15 Mi	15 So	15 Mo	15 Mi	15 Fr	15 Mo	15 Mi	15 Do	15 Do	15 Do	15 Mo	15 Do
16 Do	16 Mo	16 Di	16 Do	16 Do	16 Do	16 Do	16 Mo	16 Mo	16 Fr	16 Mo	16 Do
17 Fr	17 Do	17 Do	17 Fr	17 Mi	17 Mi	17 Fr	17 Mo	17 Do	17 Do	17 Do	17 Do
18 Sa	18 So	18 Mo	18 Sa	18 Do	18 Do	18 Do	18 Di	18 Do	18 Do	18 Do	18 Do
19 So	19 Mo	19 Di	19 So	19 Fr	19 Fr	19 So	19 Mo	19 Do	19 Mo	19 Do	19 Do
20 Mo	20 Do	20 Mi	20 Mo	20 Mo	20 Mo	20 Mo	20 Do	20 Do	20 Do	20 Do	20 Do
21 Di	21 Fr	21 Do	21 Do	21 Do	21 Di	21 Di	21 Fr	21 Mo	21 Mi	21 Mo	21 Mo
22 Mi	22 So	22 Mo	22 Mi	22 Mi	22 Mi	22 Mi	22 Do	22 Do	22 Do	22 Do	22 Do
23 Do	23 Mo	23 Di	23 Do	23 Do	23 Do	23 Do	23 Mo	23 Do	23 Fr	23 Mo	23 Mi
24 Fr	24 Do	24 Do	24 Fr	24 Fr	24 Mi	24 Mi	24 Mo	24 Do	24 Do	24 Do	24 Do
25 Sa	25 Mo	25 Mi	25 So	25 Do	25 Do	25 Do	25 Di	25 Do	25 Do	25 Do	25 Do
26 So	26 Do	26 Do	26 Mo	26 Mi	26 Mi	26 Mi	26 Do	26 Do	26 Do	26 Do	26 Do
27 Mo	27 Fr	27 So	27 Mo	27 Mi	27 Mi	27 Mi	27 Do	27 Do	27 Do	27 Do	27 Do
28 Di	28 So	28 Mo	28 Di	28 Do	28 Do	28 Do	28 Fr	28 Do	28 Do	28 Do	28 Do
29 Mi	29 Mo	29 Di	29 Mo	29 Mi	29 Mi	29 Mi	29 Do	29 Do	29 Do	29 Do	29 Do
30 Do	30 Do	30 Do	30 Mo	30 Do	30 Do	30 Do	30 Mo	30 Do	30 Fr	30 Mo	30 Mi
31 Fr	31 Di	31 Di	31 Do	31 Fr	31 Fr	31 Fr	31 Mo	31 Do	31 Do	31 Do	31 Do

Ihr Kind sollte dieses Gedicht versuchen auswendig aufsagen zu können.

Die Zeit vergeht

